

1. Exersează.

$$\begin{array}{lll}
 2 + 15 + 1 = & 12 + 4 + 3 = & 4 + 2 + 11 = \\
 14 + 2 + 3 = & 3 + 10 + 6 = & 3 + 13 + 3 = \\
 7 + 2 + 10 = & 13 + 5 + 1 = & 2 + 15 + 1 =
 \end{array}$$

2. Compară.

$$\begin{array}{lll}
 16 + 4 \square 18 + 1 & 16 - 2 \square 11 + 3 & 14 + 5 \square 20 - 1 \\
 13 + 5 \square 19 - 3 & 15 - 4 \square 19 + 1 & 19 - 7 \square 16 - 2
 \end{array}$$

3. Problemă. Teo are 15 prune. El i-a dat surioarei lui 5 prune. Câte prune i-au rămas?

Rezolvare:									
Răspuns:									

4. Problemă. În crâng sunt 16 iepuri și 3 mistreți. Câte animale sunt în crâng?

Rezolvare:									
Răspuns:									

5. Completează după model.

$$\begin{array}{r}
 (5 - 3) + (10 - 8) = 4 \\
 \quad 2 \quad + \quad 2 \quad = 4
 \end{array}$$

$$\begin{array}{r}
 (6 + 2) + (4 + 3) = \\
 \underline{\quad} + \underline{\quad} = \underline{\quad}
 \end{array}$$

$$\begin{array}{r}
 (7 + 3) - (5 - 2) = \\
 \underline{\quad} - \underline{\quad} = \underline{\quad}
 \end{array}$$

$$\begin{array}{r}
 (13 + 5) - (10 - 8) = \\
 \underline{\quad} - \underline{\quad} = \underline{\quad}
 \end{array}$$

$$\begin{array}{r}
 (24 + 6) + (38 + 32) = \\
 \underline{\quad} + \underline{\quad} = \underline{\quad}
 \end{array}$$

$$\begin{array}{r}
 (6 + 4) - (7 + 1) = \\
 \underline{\quad} + \underline{\quad} = \underline{\quad}
 \end{array}$$

$$\begin{array}{r}
 (8 - 4) - (6 - 0) = \\
 \underline{\quad} - \underline{\quad} = \underline{\quad}
 \end{array}$$

$$\begin{array}{r}
 (9 - 6) + (1 + 2) = \\
 \underline{\quad} + \underline{\quad} = \underline{\quad}
 \end{array}$$

$$\begin{array}{r}
 (69 - 7) - (54 - 34) = \\
 \underline{\quad} - \underline{\quad} = \underline{\quad}
 \end{array}$$

$$\begin{array}{r}
 (14 - 7) + (23 - 9) = \\
 \underline{\quad} + \underline{\quad} = \underline{\quad}
 \end{array}$$

1. Calculează.

$30 + 7 =$

$80 + 6 =$

$50 + 8 =$

$6 + 40 =$

$3 + 70 =$

$7 + 90 =$

$90 + 2 =$

$10 + 7 =$

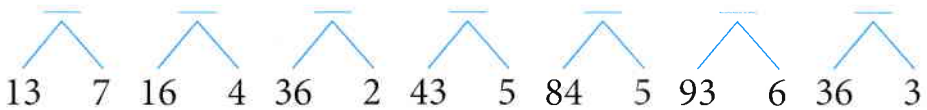
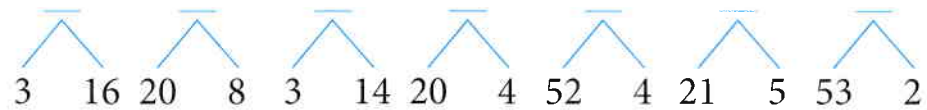
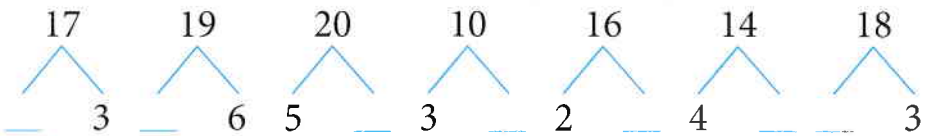
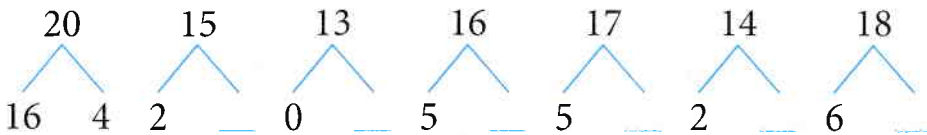
$30 + 4 =$

$5 + 40 =$

$8 + 30 =$

$5 + 50 =$

2. Descompune.



3. Scrie exerciții care au rezultatul 10 sau 20.

15 - 5
9 ...
11 ...
10 ...

3 ...
1 ...
5 ...
18 ...

10

17 ...
14 ...
7 ...
2 ...

12 ...
19 ...
13 ...
16 ...

23 - 3
6 ...
26 ...
11 ...

16 ...
27 ...
1 ...
21 ...

20

29 ...
9 ...
22 ...
7 ...

12 ...
4 ...
13 ...
3 ...

1. Compară.

74 29

14 41

40 41

81 18

24 90

98 98

16 60

43 34

63 65

39 39

15 51

86 58

2. Scrie vecinii numerelor:

__ 64 __

__ 60 __

__ 95 __

53 __ 55

50 __ 48

__ 93 __

__ 40 __

__ 59 __

70 __ 68

81 __ 79

__ 69 __

__ 80 __

__ 71 __

39 __ 41

30 __ 28

__ 51 __

__ 20 __

__ 9 __

41 __ 43

88 __ 90

3. Scrie cu cifre:

- șasezeci și trei unități __
- optzeci și o unitate __
- treizeci și nouă unități __
- șaptezeci și patru unități __
- douăzeci și opt unități __
- patruzeci și două unități __
- o zece și o unitate __
- douăzeci și cinci unități __
- cinci unități și șapte zeci __
- o unitate și trei zeci __
- patru unități și șase zeci __

4. Completează șirul.

49, __, __, __, __, 54

72, __, __, __, __, __, __, 65

90, __, __, __, __, __, __, __, __, __, __, 78

34, __, __, __, __, __, __, __, __, __, __, __, __, __, __, 18